

1年生 休校中の学習


【8 / 17 (月) ~ 8 / 21 (金)】

- ・ ことわざプリント 10 ページ
- ・ さんすうプリント 10 ページ
- ・ せいかつプリント (みつけたよ) 1 まい
(いへのちかくなどでみつけた なつのおしに
ついて えとぶんでかきましょう)
- ・ おんどく (ことわざのほんをよみましょう)

😊 けんこうに きをつけて すごしてね。

また がっこうであえるのを たのしみに
しています。 \ (^o^) /



 「わ」と「は」の ぶんぶんかを かきかきましょう。

① ぼく 、おとうとです。

② おかあさん 、こを うかかす。

③ いぬ 、えさを だぐます。




④ に に 、はなが わかかす。

⑤ と 、まめを だぐます。



⑥ うさぎ 、かわにいです。



⑦ だし 、はるが ますかです。

⑧ に 、おおきいです。

⑨ か 、みずが ながれます。

「お」と「を」

👉 「お」が「を」の ぶんぶんかき かたおしをい。


① りがみおります。



② にくやめます。

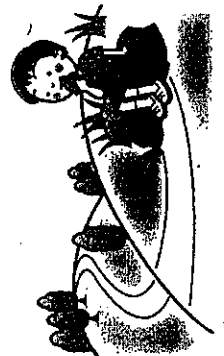
③ とうさんとほんもね。

④ ころがなくな。



⑤ ほすきうえました。

⑥ やつだぐました。



⑦ やまみちとる。

⑧ こりがくある。

⑨ きいこえです。

「え」と「く」

👉 「え」と「く」の ぶんごんかを かきかきましょう。

① こう 人 に かきかた。

② ねこは を だくかた。

③ ひだり ばかりかた。

④ ち おか に かきかた。


⑤ としよかん に かきかた。

⑥ んびつで を かきかた。

⑦ ま あるかきかた。

⑧ うみ に いる おたかきかた。

⑨ どい に かきかたか。



① おはようございます

--	--	--	--

② こんにちは

--	--	--	--	--	--	--

③ さようなら

--	--	--	--

④ どうも

--	--	--	--

⑤ いただきます

--	--	--	--

⑥ ありがとうございます

--	--	--	--	--

⑦ すみません

--	--	--	--	--

⑧ お願いします

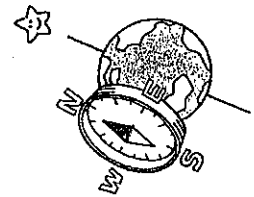
--	--	--	--	--	--

⑨ いただきます

--	--	--	--	--

⑩ いただきます

--	--	--	--



ねじれた おと




名まえ

- ねじれた ねじ ねじり ねじりまわす。
- ねじり ねじりまわす。

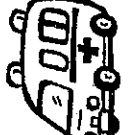
ね	ね	ね	ね	ね
ね	ね	ね	ね	ね
ね	ね	ね	ね	ね

ね	ね	ね	ね
ね	ね	ね	ね
ね	ね	ね	ね


- ねじれた ねじり ねじりまわす。
- ねじり ねじりまわす。

① 

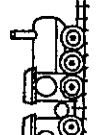
ね				
---	--	--	--	--

② 

ね		う							
---	--	---	--	--	--	--	--	--	--

③ 


ね				う
---	--	--	--	---

④ 

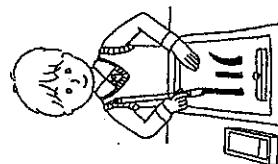
ね			
---	--	--	--

⑤

う		う	う
---	--	---	---

⑥ 

う			
---	--	--	--



おじれた おじ

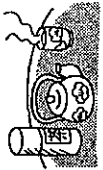
(1)

名まえ

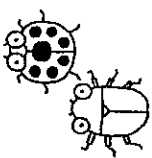
- おじおばの こころ はげやう よみまじょう。
- 見て かいて なぞりまじょう。


ち	ち	ち	ち	ち	ち	う	ち	ん
じ	じ	じ	じ	じ	じ	う	じ	ん


- おじおばの こころ はげやう かきまじょう。
- おじおばの こころ はげやう よみまじょう。


①  お

 ② にま

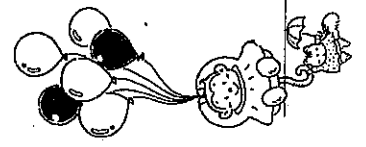
③  にんち

④  ち

⑤  にん

⑥  に

 く も



ねじれた おど




名まえ

ねじれた おど はつかり なみましよう。

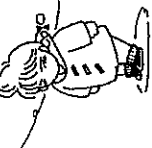
みんがら なみましよう。

ひ	ひ	ひ	ひ	ひ	ひ	く	え	ん
み	み	み	み	み	み	う	が	

ねを みんがらな にじれた かきましよう。
 にじれた おどはな にんがら はつかり なみましよう。


①  ひ

--	--	--	--	--	--

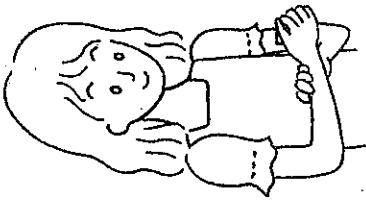
②  ひ う ひ

--	--	--	--	--	--


うがわがう。

③  ひ た ん

--	--	--	--	--

④  み く は く

--	--	--	--	--

⑤  み

--	--	--	--

ねじれた おと (四)

名まえ



ねじれた おとを ねじって はつかり よみましよう。
 見て かいて なぞりましよう。

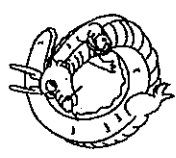
り	り	り	り	り	り	り	り	り	り	り
ね	ね	ね	ね	ね	ね	ね	ね	ね	ね	ね

ねみ じいかなん じいね かきましよう。
 じいね ねねね ねね はつかり よみましよう。


①

り	り	り
---	---	---

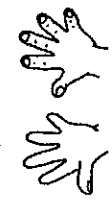
 じい かく。  → 

② 

り	り	り
---	---	---

 ③ 

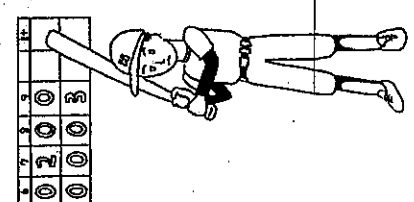
ね	ね	ね	ね	ね
---	---	---	---	---


④ 

り	り	り	り	り
---	---	---	---	---

⑤

ね	ね	ね	ね	ね
---	---	---	---	---



⑥ 

ね	ね	ね	ね	ね	ね
---	---	---	---	---	---

ねじれた おど (五)


名まえ

おおきな こえ はつかり よみましよう。


みえ かいて なぞりましよう。

し	し	し	し	し	し	ん	け	ん
ち	ち	ち	ち	ん	し	ち		

えを みえ じいおなで こしはを かきましよう。
 こしはを おおきな こえ はつかり よみましよう。

① 


じ				い	も

② 

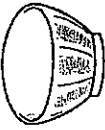
じ					

③

じ					

④ 


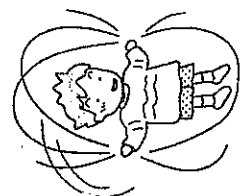
じ				

⑤ 

ち	ほん				

⑥

に	じ				




おじいちゃんのおと (六)

名まえ


- 🍁 おおきな こね はりきり よめましよう。
- 🍁 見て かいて なぞりましよう。

ひ	や	ひ	や	ひ	よ	ひ	よ	う	い	ん
ひ	や	ひ	や	ひ	よ	は	り	ひ	よ	う


- 🍀 えを みん さんがたの こねを かきましよう。
- 🍀 こねを おおきな こね はりきり よめましよう。

①  せん


ひ				え	ん
---	--	--	--	---	---

②  じんしゃを


ひ				ん				
---	--	--	--	---	--	--	--	--

③ 

ひ				ぶ
---	--	--	--	---

④  は

ひ				え	ん
---	--	--	--	---	---

⑤  うさぎが

ひ								
---	--	--	--	--	--	--	--	--

ひん。
はねる。

2


なんばんめ

くみ


なまえ

1 えをみてこたえましょう。




①  はみぎからなんばんめですか。

ばんめ

②  はひだりからなんばんめですか。

ばんめ

③  はみぎからなんばんめですか。

ばんめ

2 ひだりから 2ばんめを○でかこみましょう。



3 ひだりから 3こを○でかこみましょう。



4 なんばんめでしょう。




① とけいはうえから


ばんめ

② ぼうしはしたから

ばんめ

 「なんばんめ」の がくしゅうは たのしかったですか？



 「なんばんめ」の がくしゅうは よく わかりましたか？



7は いくつと いくつに わけられるでしょう。□に かずを かきましよう。

7	
2	

7	
	6

7	
3	

7	
	4

8は いくつと いくつに わけられるでしょう。□に かずを かきましよう。

8	
	4

8	
3	

8	
6	

8	
	1

9は いくつと いくつに わけられるでしょう。□に かずを かきましよう。

9	
2	

9	
	5

9	
1	

9	
6	

□に あてはまる かずを かきましよう。

7	
	1

9	
7	

8	
5	

9	
	3



タイムを毎回記録し、少しずつ速くできるようになっていることを実感させるのも有効です。慣れてきたら「7は、1と6、2と5…」と、ひとつ前のプリント同様に暗唱させましよう。


たしざん①

(10まで)

なまえ

① すなばで おんなのこが 3にん, おとこのこが 5にん
あそんでいます。みんなが なんにんでしょうか。

しき



こたえ

② かいひろいを しました。ゆうきくんは 4こ, たいちくんは
2こ ひろいました。あわせて なんこ ひろったでしょうか。

しき



こたえ

③ しろい うさぎが 4ひき, しろい うさぎが 6ひき
います。あわせて なんびき いるでしょうか。

しき



こたえ

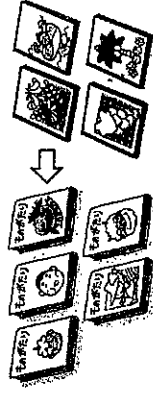
たしざん②

(10まで)

なまえ

① ほんを 5さつ もって います。4さつ かして
もらいました。みんなが なんさつに なるでしょうか。


しき



こたえ

② におに ことりが 7わ います。そこへ 3わ とんで
きました。みんなが なんわに なったでしょうか。

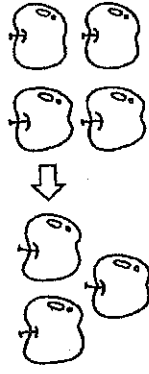
しき



こたえ

③ りんごが 3こ あります。おめあさんが 4こ かって
きました。ぜんぶが なんこに なるでしょうか。

しき



こたえ

たしざん③

(10まで)

なまえ

- ① にわとりがきのう たまごを 7こ うみました。きょうは 2こ うみました。あわせて なんこに なったでしょうか。

しき

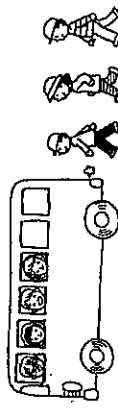


〇〇〇
〇〇〇〇

こたえ

- ② くるまに こどもが 4人 のって いました。また 3人 のりました。こどもは みんなで なんにんでしょうか。

しき



こたえ

- ③ ざるが 4ひき あそんで いました。5ひき やって きました。ぜんぶで なんびきに なったでしょうか。

しき



こたえ

たしざん④

(10まで)

なまえ

- ① せみを かずまくんは 5ひき、りゅうきくんは 3ひき とりました。あわせて なんびき とったでしょうか。

しき



こたえ

- ② 6にん で こまわしを しています。そこへ 4にん きました。みんな で なんにん に なったでしょうか。

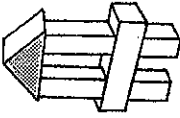
しき



こたえ

- ③ つみがが 3こ つんで あります。そのうえに 3こ つみました。あわせて なんこに なったでしょうか。

しき



こたえ

10までの
たしざん(11)

なまえ

① $3+4=$

② $4+5=$

③ $6+3=$

④ $4+3=$

⑤ $2+7=$

⑥ $5+4=$

⑦ $3+6=$

⑧ $7+3=$

⑨ $2+6=$

⑩ $4+4=$

⑪ $1+7=$

⑫ $6+3=$

⑬ $6+2=$

⑭ $5+3=$

⑮ $1+8=$

⑯ $4+1=$

⑰ $3+3=$

⑱ $4+6=$

⑲ $5+2=$

⑳ $2+4=$

㉑ $2+5=$

㉒ $4+3=$

㉓ $2+2=$

㉔ $8+1=$

㉕ $3+5=$

㉖ $4+2=$

㉗ $7+2=$

㉘ $3+6=$

㉙ $1+5=$

㉚ $3+2=$

㉛ $6+1=$

㉜ $2+4=$

㉝ $3+5=$



10までの
たしざん(12)

なまえ

① $3+2=$

② $7+2=$

③ $5+1=$

④ $8+2=$

⑤ $4+3=$

⑥ $2+6=$

⑦ $8+1=$

⑧ $3+4=$

⑨ $4+6=$

⑩ $1+7=$

⑪ $4+3=$

⑫ $4+4=$

⑬ $5+2=$

⑭ $4+2=$

⑮ $3+5=$

⑯ $5+3=$

⑰ $7+1=$

⑱ $6+1=$

⑲ $2+4=$

㉑ $7+2=$

㉒ $6+3=$

㉓ $1+4=$

㉔ $4+5=$

㉕ $1+3=$

㉖ $6+2=$

㉗ $3+6=$

㉘ $4+4=$

㉙ $5+4=$


㉚ $3+3=$

㉛ $2+5=$

㉜ $6+1=$

㉝ $2+7=$

㉞ $6+3=$

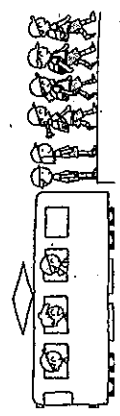


ひきざん 1
(10まで)

ひきざん 2
(10まで)

□ でんしゃに こどもが 9にん のって いました。つぎの えきで 6にん おりました。なんにんに なったでしょうか。

しき



こたえ

② おもちゃが 8こ あります。2こ やいて たべました。のこりの おもちゃは なんこでしょうか。


しき



こたえ

③ はたけで なすびが 7こ とれました。そのうち 5こ まゆさんに あげました。のこりは なんこでしょうか。


しき



こたえ

① おしかごに とんぼが 6びき いました。2びき にがして やりました。のこりの とんぼは なんびきに なったでしょうか。

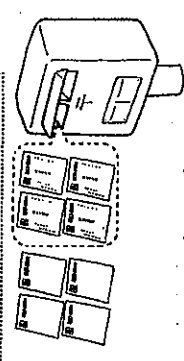
しき



こたえ

② はがきが 8まい ありました。ともだちに 4まい だしました。のこりは なんまいでしょうか。


しき



こたえ

③ おみせに すいかが 10こ ありました。そのうち 6こ うれました。のこりは なんこでしょうか。

しき




こたえ

なまえ

ひきざん ③
(10まで)

① ばらの はなが 8ほん さきました。7ほん とって いえに
かざりました。ばらの はなは なんほんに なったでしょうか。

しき



こたえ

② ほんが 9さつ あります。6さつ よみました。よんで
いない ほんは なんさつでしょうか。

しき



こたえ

③ はとが 7わ こうえんに いました。くるまが きたので
6わ にげました。はとは なんわ のこって いるでしょうか。

しき




こたえ

なまえ

ひきざん ④
(10まで)

① 9にんで おにごっこを して いました。4にん
かえりました。のこった ひとは なんにんで しょうか。

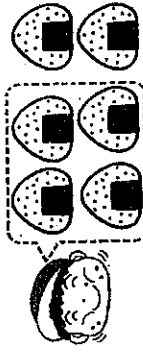
しき



こたえ

② おにぎりが 6こ ありました。4こ たべました。のこりは
なんこでしょうか。

しき



こたえ

③ ほしが 10こ ひかって みえました。くもが でて きて
3こ かくれしました。なんこ ひかって いるでしょうか。

しき




こたえ

なまえ

ひきざん⑤
(ちがいはいくつ)

- ① かえるが 8びき、かにが 6びき います。かえるが なんびき おおいでしょうか。

しき



こたえ

- ② いちごが 9こ、さくらんぼが 7こ あります。いちごが なんこ おおいでしょうか。

しき



こたえ

- ③ じてんしゃが 7だい、いちりんしゃが 5だい あります。じてんしゃが なんだい おおいでしょうか。

しき

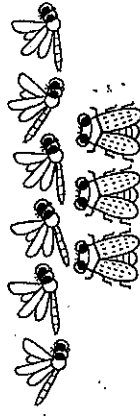


なまえ

ひきざん⑥
(ちがいはいくつ)

- ① とんぼを 6びき、せみを 3びき とりました。とんぼが なんびき おおいでしょうか。


しき



こたえ

- ② きりんが 7とう、ぞうが 4とう います。きりんが なんとう おおいでしょうか。

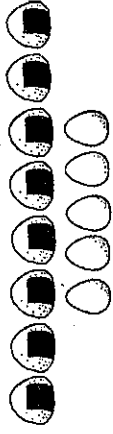
しき



こたえ

- ③ おにぎりが 8こ、ゆでたまごが 5こ あります。おにぎりが なんこ おおいでしょうか。

しき



こたえ


こたえ

10までの
ひきざん 15



ひきざん

- ① $8-3=$
- ② $10-7=$
- ③ $3-2=$
- ④ $8-5=$
- ⑤ $6-4=$
- ⑥ $10-1=$
- ⑦ $8-1=$
- ⑧ $9-6=$
- ⑨ $7-2=$
- ⑩ $10-8=$
- ⑪ $7-4=$
- ⑫ $9-2=$
- ⑬ $10-5=$
- ⑭ $5-2=$
- ⑮ $8-7=$
- ⑯ $9-5=$
- ⑰ $7-1=$
- ⑱ $9-1=$
- ⑲ $6-5=$
- ⑳ $7-3=$
- ㉑ $9-4=$
- ㉒ $7-5=$
- ㉓ $6-2=$
- ㉔ $5-4=$
- ㉕ $9-3=$
- ㉖ $10-2=$
- ㉗ $5-3=$
- ㉘ $10-6=$
- ㉙ $8-4=$
- ㉚ $9-8=$
- ㉛ $6-3=$
- ㉜ $7-6=$
- ㉝ $8-2=$



10までの
ひきざん 16



ひきざん

- ① $8-7=$
- ② $7-6=$
- ③ $7-4=$
- ④ $7-3=$
- ⑤ $10-3=$
- ⑥ $8-1=$
- ⑦ $7-5=$
- ⑧ $8-6=$
- ⑨ $6-5=$
- ⑩ $9-6=$
- ⑪ $10-9=$
- ⑫ $9-5=$
- ⑬ $5-4=$
- ⑭ $8-3=$
- ⑮ $7-2=$
- ⑯ $9-3=$
- ⑰ $10-4=$
- ⑱ $4-2=$
- ⑲ $9-7=$
- ⑳ $10-2=$
- ㉑ $8-5=$
- ㉒ $6-2=$
- ㉓ $5-2=$
- ㉔ $9-2=$
- ㉕ $10-7=$
- ㉖ $6-4=$
- ㉗ $8-2=$
- ㉘ $9-4=$
- ㉙ $6-3=$
- ㉚ $9-8=$
- ㉛ $8-4=$
- ㉜ $5-3=$
- ㉝ $9-1=$



ちからだめし #10までのたしざん ひきざん



なまえ

① えりさんは いろがみを 3まい、おねえさんは 2まい もっています。ふたり あわせると なんまいですか。

しき

こたえ

② すずめが 8わ いました。2わ とんでいきました。なんわに なりましたか。

しき

こたえ

③ なすびを 7ほん かいました。4ほん たべました。のこりは なんほんですか。

しき

こたえ

④ えんぴつを 2ほん もっています。6ぼん もらいました。ぜんぶで なんぼんに なりましたか。

しき

こたえ

⑤ みかんが 4こ あります。2こ あげました。のこりは、なんこに なりましたか。

しき

こたえ

⑥ あかい いろがみが 9まい、あおい いろがみが 4まい あります。あかい いろがみが なんまい おおいでしょう。

しき

こたえ

⑦ まことくんは さかなを 3びき おとうさんは 4びき つりました。ふたり あわせて なんびき つりましたか。

しき

こたえ

⑧ たまごが 8こ あります。ゆでたまごをつくるのに 6こ つかいました。のこりは なんこでしょう。

しき

こたえ

⑨ りかさんは いちごを 6こ おねえさんは 9こ たべました。おねえさんは なんこ おおきたべましたか。


しき

こたえ

⑩ かごに りんごが 5こ あります。3こ かごに りんごを いれました。みんなで なんこに なりましたか。

しき

こたえ



みつけたよ

なつ の むし

がっ

にち

ようび

なまえ